

Kit de evaluación

Salida 1

Mostrando lo que aprendimos

MATEMÁTICA

Tercer trimestre
Segundo grado - Primaria



Nombres y apellidos:



INDICACIONES

- Lee cada problema con mucha atención.
- En este cuadernillo encontrarás problemas como los siguientes:

En problemas con alternativas, deberás marcar con una X tu respuesta.



Yarina tiene 5 figuritas. Compra 3 figuritas más. ¿Cuántas figuritas tiene ahora?

- a 2 figuritas.
- b 8 figuritas.
- c 6 figuritas.

Puedes usar el espacio en blanco para resolver el problema. No olvides escribir tu respuesta.

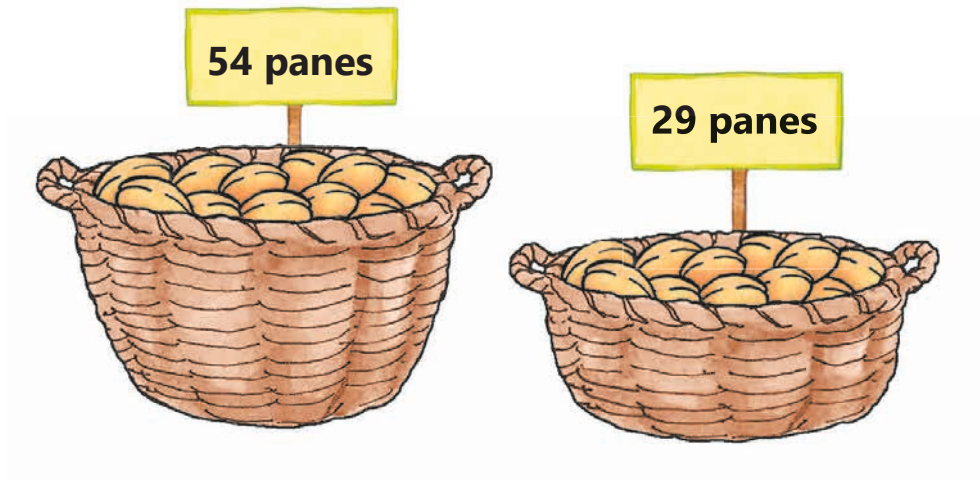


Luis tiene 3 plumones negros y 2 plumones rojos. ¿Cuántos plumones tiene en total? Escribe tu procedimiento.

Respuesta: _____

A continuación, resuelve los problemas del cuadernillo.

- 1 Observa los panes en las canastas. Con ellos, se llenaron bolsas de 10 panes.



¿Cuántas bolsas se llenaron en total?

- a 7 bolsas.
- b 8 bolsas.
- c 83 bolsas.
- 2 Un equipo de fútbol tiene 27 polos rojos y 12 polos amarillos. ¿Cuántos polos amarillos menos que polos rojos tiene el equipo?

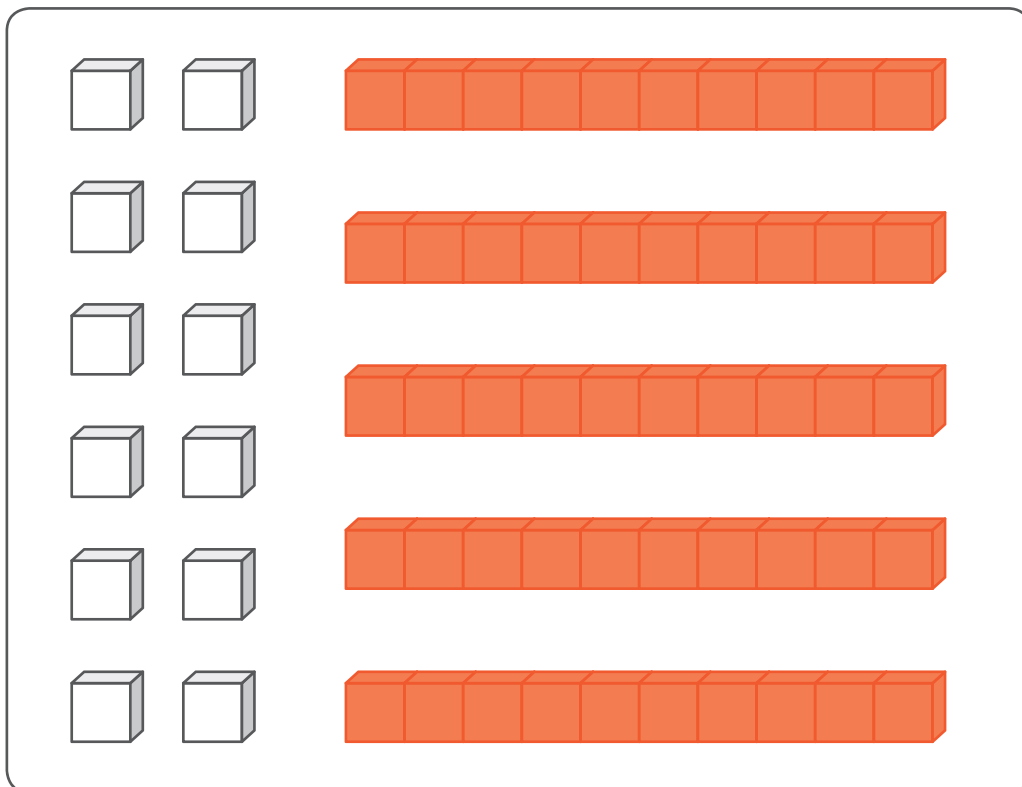
Respuesta: _____

3

Cada  vale 1 unidad.

Cada  vale 1 decena.

¿Qué número se ha representado con el material base diez?

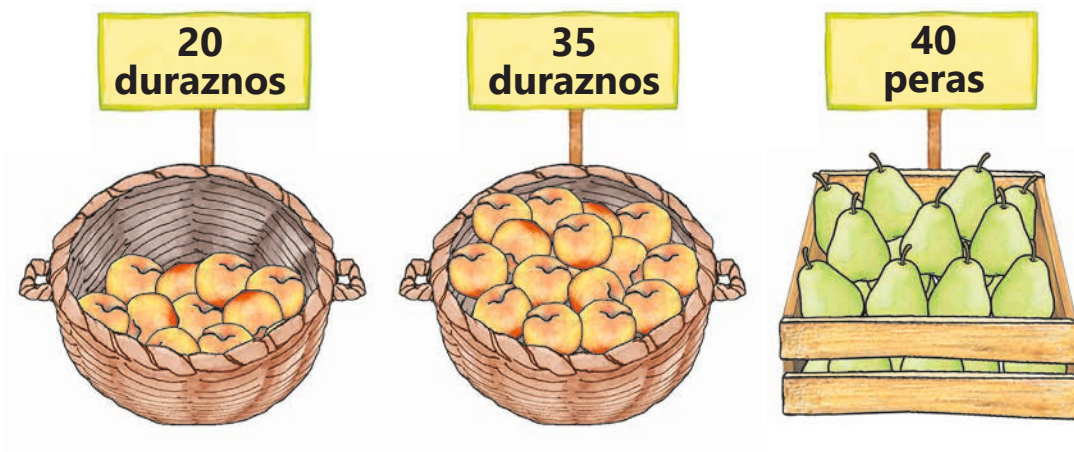


a 17

b 62

c 72

- 4 Jorge tiene 2 canastas con duraznos y 1 caja con peras.



¿Cuántos duraznos más que peras tiene Jorge?

- a 55 duraznos.
 - b 15 duraznos.
 - c 95 duraznos.
- 5 A Mónica le pidieron tejer 50 gorros de lana. Ella tejió 18 gorros de color rojo, 19 gorros de color azul y el resto de color verde. ¿Cuántos gorros de color verde tejió para cumplir con el pedido?

Respuesta: _____


- 6 Escoge 2 tarjetas numéricas y forma un número de 2 cifras que tenga la mayor cantidad de decenas.



Escribe el número que formaste.

A rectangular box divided into two equal vertical compartments by a red line, intended for writing a two-digit number.

- 7 Pedro tiene 25 fichas. Él guardó algunas fichas en una bolsa y dejó las demás en la mesa.



¿Cuántas fichas guardó Pedro en la bolsa?

- a 13 fichas.
- b 25 fichas.
- c 37 fichas.

8

Lee el texto del recuadro.

Franco recogió 17 peras.
¿Cuántas peras más
debe recoger Franco para
tener la misma cantidad
que Rocío?

¿Qué información necesitas para responder la pregunta del texto?

- a Rocío tiene 6 peras menos que Franco.
- b Rocío recogió 20 peras.
- c Rocío y Franco recogieron peras.

9

Observa los pasos que debes realizar para resolver la siguiente operación:

$$8 + 6$$

- Busco lo que le falta al 8 para llegar al **10**.
- Uso el **2** para descomponer el 6: **2** + 4.
- Luego, resuelvo: $8 + 2 = 10$.
- Finalmente, calculo: $10 + 4 = 14$.

Entonces, la respuesta al sumar $8 + 6$ es 14.

Utiliza este procedimiento y calcula

$$9 + 7$$

- Busco lo que le falta al 9 para llegar al 10.

10

María observa el número del recuadro y dice lo siguiente:


“Si cambiamos la posición de los dígitos de este número, se formará un número mayor que 36”.

36

¿Estás de acuerdo con lo que dice María? ¿Por qué?

11

Justina está en el mercado de frutas y compra estas papayas para venderlas.



¿Qué cantidad de papayas compra Justina?

- a 5 decenas y 9 sueltas.
- b 6 decenas y 1 suelta.
- c 7 decenas.

12

Luis dice lo siguiente:


Hay 27 libros.



¿Cuántos libros representa el 2 del 27?

- a 2 libros.
- b 20 libros.
- c 27 libros.

- 13 En un corral hay patos y gallinas. Observa la imagen.



Según el dibujo, al resolver $8 - 3$, ¿qué estamos calculando?

- a Calculamos la cantidad de patos en el corral.
- b Calculamos la cantidad de gallinas en el corral.
- c Calculamos la cantidad de animales en el corral.

14 Escribe un problema. La respuesta debe ser 8 caramelos.

Resposta: 8 caramelos

15 Elena tiene 46 duraznos en su puesto del mercado.
Marca con una X la expresión que indica esa cantidad.

3 decenas
16 unidades

46 decenas
0 unidades

4 unidades
6 decenas

16 Víctor tiene 9 carritos y Edson tiene 5 pelotas. ¿Cuántos juguetes más que Edson tiene Víctor?

Puedes hacer tus representaciones en el esquema.

--	--

Juguetes de Víctor

Juguetes de Edson



Respuesta: _____

¡Felicitaciones! Has terminado.

MINISTERIO DE EDUCACIÓN Av. De la Arqueología, cuadra 2, San Borja Lima, Perú.
Impreso por: Industria Gráfica **Cimagraf** S.A.C. Psje. Santa Rosa N° 140, Ate - Lima RUC 20136492277.
Hecho el Depósito Legal en la Biblioteca Nacional del Perú N° 2018-15618

